

1.

2 * Засели домики числами:

The houses are arranged as follows:

- House 2: 1 |
 |
- House 3: 1 |
 2 |
- House 4: 1 |
 2 |
 3 |
- House 5: 1 |
 2 |
 3 |
 4 |
- House 6: 1 |
 2 |
 3 |
 4 |
 5 |
- House 7: 1 |
 2 |
 3 |
 4 |
 5 |
 6 |
- House 8: 1 |
 2 |
 3 |
 4 |
 5 |
 6 |
 7 |
- House 9: 1 |
 2 |
 3 |
 4 |
 5 |
 6 |
 7 |
 8 |

2.

Реши примеры и запиши решения

$\dots + \dots = 5$		$5 - \dots = \dots$
$\dots + \dots = 5$		$5 - \dots = \dots$
$\dots + \dots = 5$		$5 - \dots = \dots$
$\dots + \dots = 5$		$5 - \dots = \dots$

Определи закономерность и нанизи рассыпанные бусы в таком же порядке

1	2	3	4	5	6	7	8	1	2	3	4	5	6	7	8
---	---	---	---	---	---	---	---	---	---	---	---	---	---	---	---

Задачи

1. Грибник собрал грибы:

опят и маслѐнка.

Сколько всего грибов собрал грибник?

$$\dots + \dots = \dots$$

2. Мама ежика кормила ежат.

К обеду пришѐл и папа еж. Сколько всего ежей в ежиной семье?

$$\dots + \dots = \dots$$



3. Мальчик сделал восемь бумажных самолѐтиков. Три самолѐтика он запустил в полѐт. Сколько самолѐтиков осталось у мальчика?

$$\dots - \dots = \dots$$

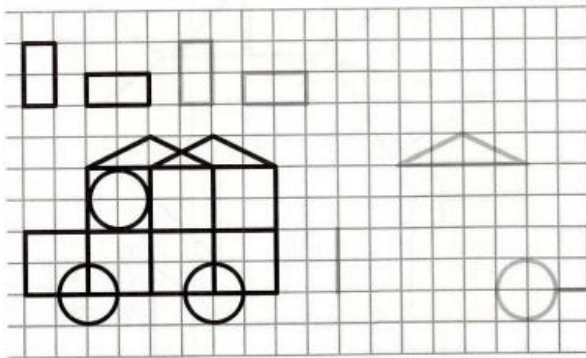
Лабиринт

3.


Реши задачи



Продолжи строчку, дорисуй машинку, раскрась



Раскрась круги жёлтым цветом, квадраты — синим, треугольники — красным, так чтобы круги были сверху, а треугольники — внизу



Реши задачи

